



Finken-Gratisdownload

mit ausgewählten Musterseiten



KOMM MIT – RECHNE MIT! · Band 2

Stufe 1A: Zahlenraum bis 10

Artikel-Nr. 3011

Weitere Infos unter www.finken.de/3011

Schreibe zu jedem Punktebild die richtige Zahl.



--	--	--	--	--	--	--	--	--	--

--	--	--	--	--	--	--	--	--	--

--	--	--	--	--	--	--	--	--	--

--	--	--	--	--	--	--	--	--	--

--	--	--	--	--	--	--	--	--	--

--	--	--	--	--	--	--	--	--	--

Tragen Sie in die Zehnerfelder Punkte in unterschiedlicher Anzahl ein.
Erstellen Sie auf diese Weise differenzierende Arbeitsblätter.

Name:

Datum:


A23



Finde alle Plusaufgaben und schreibe sie in die Häuschen.

3		
0	+	3
1	+	2
2	+	
3	+	

4		
0	+	4
1	+	3
	+	
	+	
	+	



5		
0	+	5
1	+	
	+	
	+	
	+	
	+	

6		
0	+	6
	+	
	+	
	+	
	+	
	+	
	+	

7		
0	+	7
	+	
	+	
	+	
	+	
	+	
	+	

Name:

Datum:

A40



Mehr Minusaufgaben zum Üben! Rechne aus.



$2 - 1 = \square$

$6 - 2 = \square$

$3 - 2 = \square$

$5 - 2 = \square$

$7 - 7 = \square$

$8 - 2 = \square$

$7 - 6 = \square$

$10 - 9 = \square$

$5 - 1 = \square$

$8 - 1 = \square$

$2 - 0 = \square$

$7 - 0 = \square$

$10 - 1 = \square$

$9 - 7 = \square$

$6 - 1 = \square$

$8 - 7 = \square$

$7 - 2 = \square$

$8 - 5 = \square$

$9 - 3 = \square$

$4 - 3 = \square$

$9 - 4 = \square$

$10 - 8 = \square$

$9 - 6 = \square$

$7 - 4 = \square$

$8 - 3 = \square$

$5 - 3 = \square$

$10 - 4 = \square$

$7 - 1 = \square$

$10 - 3 = \square$

$9 - 2 = \square$

$6 - 5 = \square$

$8 - 4 = \square$

$5 - 5 = \square$

$10 - 5 = \square$

$9 - 5 = \square$

$10 - 7 = \square$

$6 - 3 = \square$

$4 - 2 = \square$

$3 - 1 = \square$

$9 - 8 = \square$

$10 - 2 = \square$

$7 - 5 = \square$

$7 - 3 = \square$

$10 - 6 = \square$

$8 - 6 = \square$